

Date : _____

Mesure avec une règle graduée

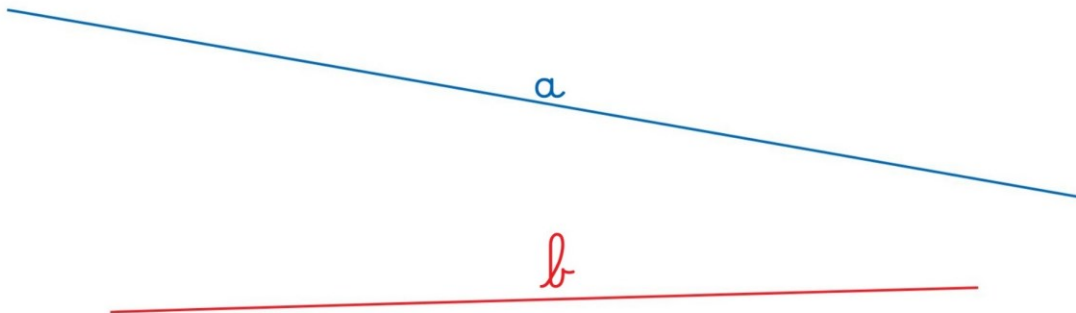
Pour les exercices 1 et 2, utilise la règle graduée orange.



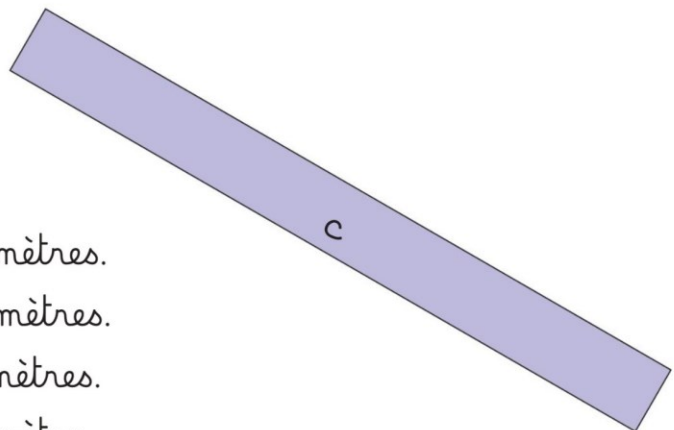
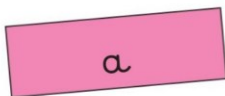
- 1 Gribouille veut une bande **bleue** de 4 unités.
Marque l'endroit où il doit couper.



- 2 Écris la longueur de chaque trait.

Le trait **a** mesure unités.Le trait **b** mesure unités.**Mesure : la nouvelle règle graduée**

- 3 Utilise la règle graduée **bleue**.
Écris la longueur de chaque bande.

La bande **a** mesure centimètres.La bande **b** mesure centimètres.La bande **c** mesure centimètres.La bande **d** mesure centimètre.